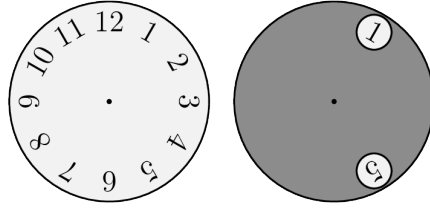


Problema me 3 pikë

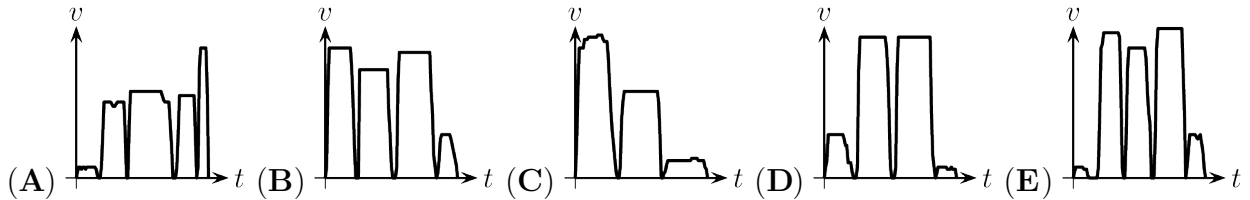
1. Një rreth gri me dy vrima vendoset mbi orë, siç tregohet në figurë.



Rrethi gri rrotullohet rreth qendrës në mënyrë që numri 10 të shfaqet në një nga vrimat. Cilët numra mund të shihen në vrimën tjetër?

- (A) 2 ose 6 (B) 3 ose 7 (C) 3 ose 6 (D) 1 ose 9 (E) 2 ose 7

2. Maries për të hipur në autobus i duhej të vraponte. Ajo zbriti dy stacione më pas dhe pastaj shkoi në shkollë. Cili nga grafikët e mëposhtëm shpejtësi-kohë do të paraqiste më mirë udhëtimin e saj?

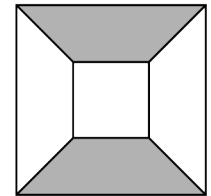


3. Numrat natyrorë m dhe n janë të dy tek. Cili nga numrat e mëposhtëm është po ashtu tek?

- (A) $m(n + 1)$ (B) $(m + 1) \cdot (n + 1)$ (C) $m + n + 2$
 (D) $m \cdot n + 2$ (E) $m + n$

4. Një katror i madh me brinjë 10 cm përmban një katror më të vogël me brinjë 4 cm, siç tregohet në figurë. Brinjët përkatëse të dy katrorëve janë paralele. Sa përqind e katrorit të madh është e ngjyrosur me gri?

- (A) 25% (B) 30% (C) 40%
 (D) 42% (E) 45%




5. Sot është e enjte. Çfarë ditë e javës do të jetë në ditën e 2023?

- (A) E martë (B) E mërkurë (C) E enjte (D) E premte (E) E shtunë

6. Një drejtkëndësh i madh është i ndarë në 30 katrorë të njëjtë, siç tregohet në figurë. Perimetri i zonës me ngjyrë gri është 240 cm. Sa është syprina e drejtkëndëshit?

- (A) 480 cm^2 (B) 750 cm^2 (C) 1080 cm^2
 (D) 1920 cm^2 (E) 2430 cm^2



7. Shuma e moshave të një familjeje prej pesë anëtarësh është 80. Dy më të vegjlit janë 6 dhe 8 vjeç. Sa ishte shuma e moshave të kësaj familjeje 7 vite më parë?

- (A) 35 (B) 36 (C) 45 (D) 46 (E) 66

8. Një gardh prej druri përbëhet nga një sërë dërrasash vertikale, secila e bashkuar me dërrasën tjetër vertikale me katër dërrasa horizontale. Dërrasa e parë dhe e fundit në gardh janë vertikale. Cili nga numrat e mëposhtëm mund të jetë numri i përgjithshëm i dërrasave në gardh?

- (A) 95 (B) 96 (C) 97 (D) 98 (E) 99

9. Shkronjat a dhe b duhet të zëvendësohen me numra natyrorë që të vërtetojnë ekuacionin: $\frac{a}{5} = \frac{7}{b}$. Në sa mënyra të ndryshme mund të bëhet kjo?

- (A) 0 (B) 1 (C) 2 (D) 3 (E) 4

10. Pasi Sokoli luajti 200 ndeshje shahu, norma e tij e fitimit ishte fiks 49 %. Sa është numri më i vogël i lojërave shtesë që duhet të luajë ai për të rritur normën e tij të fitimit në fiks 50%?

- (A) 0 (B) 1 (C) 2 (D) 3 (E) 4

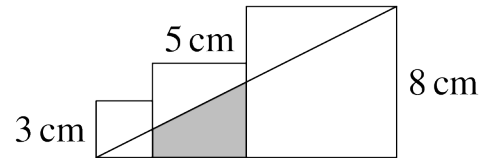
Problema me 4 pikë

11. Xheni po përpiquej të kursente ujin. Ajo e zvogëloi kohën që kalonte në dush me një të katërtën. Po ashtu, ajo uli presionin e ujit të dushit për të zvogëluar shpejtësinë e daljes së ujit nga koka e dushit me një të katërtën. Me çfarë raporti e zvogëloi Xheni sasinë e përgjithshme të ujit që përdorte për të bërë dush?

- (A) me $\frac{1}{4}$ (B) me $\frac{3}{8}$ (C) me $\frac{5}{8}$ (D) me $\frac{5}{12}$ (E) me $\frac{7}{16}$

12. Figura paraqet tre katrorë me brinjë 3 cm, 5 cm dhe 8 cm. Sa është sipërfaqja, në cm^2 , e trapezit në ngjyrë gri?

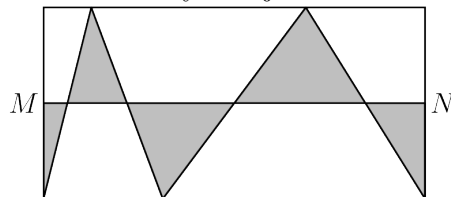
- (A) 13 (B) $\frac{55}{4}$ (C) $\frac{61}{4}$ (D) $\frac{65}{4}$ (E) $\frac{69}{4}$



13. Një tel ka gjatësinë 95 m. Ai pritet në tre copa në mënyrë që gjatësia e copës së dytë dhe të tretë të jetë 50% më e madhe se ajo e copës së prerë më parë. Sa është gjatësia e copës më të madhe?

- (A) 36 m (B) 42 m (C) 45 m (D) 46 m (E) 48 m

14. Pikat M dhe N janë meset e dy brinjëve anësore të drejtkëndëshit.

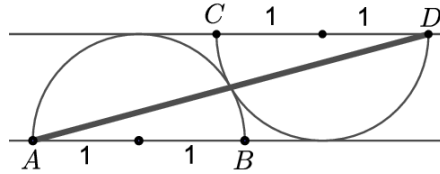


Sa është raporti i sipërfaqes në gri me të gjithë sipërfaqen e drejtkëndëshit?

- (A) $\frac{1}{6}$ (B) $\frac{1}{5}$ (C) $\frac{1}{4}$ (D) $\frac{1}{3}$ (E) $\frac{1}{2}$

Problema me 5 pikë

21. Diagrami tregon dy gjysmërrathë tangjentë me rreze 1 dhe diametra paralele AB dhe CD . Sa është katrori i distancës AD ?



- (A) 16 (B) $8 + 4\sqrt{3}$ (C) 12 (D) 9 (E) $5 + 2\sqrt{3}$

22. Kur makinës **Kangur** i jepet një listë me katër numra, ajo e vazhdon listën duke shtypur numrin më të vogël të plotë jo negativ që është i ndryshëm nga secili nga katër termat e mëparshëm dhe më pas e përsërit këtë proces pa pushim. Jakobi shkruan numrat 2, 0, 2, 3, në makinë. Cili do të jetë numri i 2023-ti në listë?

- (A) 0 (B) 1 (C) 2 (D) 3 (E) 4

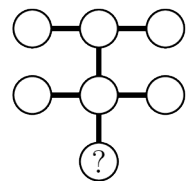
23. Nga drejtkëndëshi me kulme $(0, 0)$, $(100, 0)$, $(100, 50)$ e $(0, 50)$ pritet rrethi me qendër $(75, 30)$ e rreze 10. Sa është koeficienti këndor (pjerrësia) i drejtëzës që kalon nga pika $(75, 30)$ dhe e ndan zonën e mbetur të drejtkëndëshit në dy pjesë me sipërfaqe të barabarta?

- (A) $\frac{1}{5}$ (B) $\frac{1}{3}$ (C) $\frac{1}{2}$ (D) $\frac{2}{5}$ (E) $\frac{2}{3}$

24. Kur telefoni i Metinit karikohet plotësisht, i mban 32 orë nëse e përdor vetëm për telefonata, 20 orë nëse e përdor vetëm për internet dhe 80 orë nëse nuk e përdor fare. Metini hipi në tren me telefonin gjysmë të karikuar dhe koha që ai e përdori celularin për internet, për telefonata dhe nuk e përdori ishin të njëjta. Telefoni i tij mbaroi karikimin pikërisht kur treni arriti në destinacion. Sa orë zgjati udhëtimi i Metinit me tren?

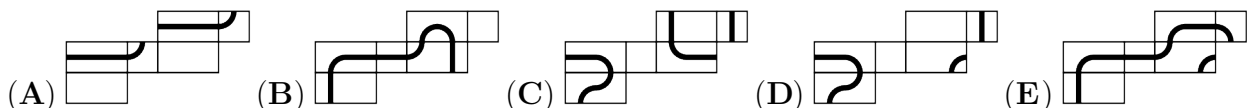
- (A) 10 (B) 12 (C) 15 (D) 16 (E) 18

25. Shtatë numra të ndryshëm njëshifrorë shkruhen secili në njërin nga rrathët e diagramës së paraqitur. Prodhimi i tre numrave në secilën treshe rrathësh të lidhura është i njëjtë. Cili numër është shkruar në rrethin me shenjën e pikëpyetjes?



- (A) 2 (B) 3 (C) 4 (D) 6 (E) 8

26. Luani ka vizatuar një shteg të mbyllur në një kuboid dhe më pas e ka hapur kuboidin për të dhënë një rrjetë. Cila nga rrjetat e treguara nuk mund të jetë rrjeta e kuboidit të Luanit?



27. Sa numra natyrorë treshifror x ka, të tillë që zbritja e shumës së shifrave të tij nga x jep një numër treshifror, shifrat e të cilit janë të njëjta?

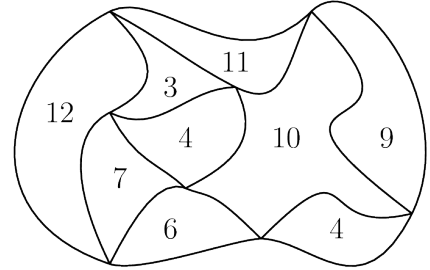
- (A) 1 (B) 2 (C) 3 (D) 20 (E) 30

28. Në sa mënyra të ndryshme mund të lexohet fjala **BANANA** nga tabela e mëposhtme duke lëvizur nga një kutizë në një kutizë tjetër me të cilën ka një brinjë të përbashkët? Kutizat mund të vizitohen më shumë se një herë.

B	A	N
A	N	A
N	A	N

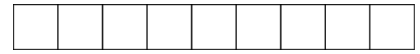
- (A) 14 (B) 28 (C) 56 (D) 84 (E) vlerë tjetër

29. Diagrama tregon një hartë të një parku. Parku është i ndarë në zona. Numri brenda çdo zone jep perimetrin e tij, në km. Sa është perimetri i jashtëm i parkut?



- (A) 22 km (B) 26 km
 (C) 28 km (D) 32 km
 (E) asnjë nga këto numra

30. Pjetri dëshiron të shkruajë numrat e plotë nga 1 deri te 9 në nëntë kutitë e paraqitura në mënyrë që numrat e plotë në çdo tri kuti ngjitur ta kenë shumën shumëfish të 3. Në sa mënyra mund ta bëjë ai këtë?



- (A) 6^4 (B) 6^3 (C) 2^9
 (D) $6 \times 5 \times 4 \times 3 \times 2 \times 1$ (E) $9 \times 8 \times 7 \times 6 \times 5 \times 4 \times 3 \times 2 \times 1$